

మోడల్ పేపర్

సర్వ శిక్షా అభియాన్ - ఆంధ్రప్రదేశ్

సంగ్రహణాత్మక మదింపు - I (2014-2015)

1వ తరగతి - గణితం

విద్యార్థి పేరు :

సమయం : 2 గంటలు

రోల్ నెంబరు :

మార్కులు : 50

విద్యా ప్రమాణాలు	సమస్య సాధన		కారణాలు చెప్పడం నిరూపణలు చేయడం		వ్యక్తపరచడం		అనుసంధానం		ప్రాతినిధ్యపర్చడం		మొత్తం	
	రాత	మౌఖిక	రాత	మౌఖిక	రాత	మౌఖిక	రాత	మౌఖిక	రాత	మౌఖిక	రాత	మౌఖిక
ప్రశ్నల క్రమ సంఖ్య	5	5	-	5	1	-	-	1	1	1	7	12
కేటాయించిన మార్కులు	20	5	-	5	5	-	-	5	5	5	30	20
సాధించిన మార్కులు												
గ్రేడు												

I. సమస్య సాధన (20 మార్కులు)

1. బొమ్మలు చూడండి, లెక్కించి, గణిత సరైన సంఖ్య రాయండి.

a) $\boxed{★★} + \boxed{★★★} + \boxed{★★★★} = \boxed{}$

$\boxed{2} + \boxed{3} + \boxed{4} = \boxed{}$

2 మార్కులు






b) $\boxed{} + \boxed{★★★} = \boxed{★★★★★★}$

$\boxed{} + \boxed{3} = \boxed{8}$

3 మార్కులు

2. లెక్కించండి సంఖ్యను రాయండి.

5 మార్కులు







3. కింది వరుసలలోని ఖాళీలలో సరైన సంఖ్యలు రాయండి. (21/2 మార్కులు)

9	9							9
---	---	--	--	--	--	--	--	---

4. జతపరచండి. (1 × 5 = 5 మార్కులు)

7+2	8
1+5	6
2+6	5
3+2	4
2+2	9

5. బొమ్మలను లెక్కించండి. మొత్తాన్ని రాయండి. (2 1/2 మార్కులు)

	+		=	
	+		=	

II. వ్యక్తపరచడం (5 మార్కులు)

6. ఎ. 7,5,9,8 లలో అన్నింటి కన్నా పెద్దసంఖ్య రాయండి. (1 మార్కు)


బి. 3కి 5 వి కలిపినా 7 వస్తుంది దీనిని గణిత వాఖ్యంగా రాయండి. (1 మార్కు)

సి.  మొత్తం ఎన్ని తెల్పండి. (2 మార్కులు)

డి. 6,5,8,2,4 లలో చిన్న సంఖ్య రాయండి. (1 మార్కు)

III. ప్రాతినిధ్య పర్చుట (5 మార్కులు)

7.



పై బొమ్మను గమనించి, సంఖ్యను రాయండి.

○ =

□ =

△ =

‘ ~ ’ =

— =

మాఖిక పరీక్ష (20 మార్కులు)

I. సమస్య సాధన

(5 మార్కులు)

8. ఎ. 6 తరువాత వచ్చే సంఖ్య ఏది

(1 మార్కు)

బి. రాజు వద్ద 7 గోళీలు ఉన్నాయి వాళ్ళ చెల్లి దగ్గర 2 గోళీలు ఉన్నాయి. ఇద్దరి వద్ద ఉన్న మొత్తం గోళీలు ఎన్ని?

(2 మార్కు)

సి. 4,6 మధ్యగల సంఖ్య ఏది

(1 మార్కు)

డి. 3 సంఖ్యకు మందు సంఖ్య ఏది

(1 మార్కు)

II. కారణాలు చెప్పడం - నిరూపణలు చేయడం. (5 మార్కులు)

- ఎ. 2 ఎంత కలిపిన 2 వచ్చును? (1 మార్కు)
- బి. 2,6 లలో పెద్ద సంఖ్య (1 మార్కు)
- సి. 3,4,5, తరువాత సంఖ్యలు రాయండి. (1 మార్కు)
- డి. 1,9 లలో చిన్నసంఖ్య (1 మార్కు)
- ఇ. 2, 4 ల మధ్య వచ్చే సంఖ్య? (1 మార్కు)

III. అనుసంధానం (5 మార్కులు)

బంతిని పొలిన్ 5 వస్తువుల పేర్లు చెప్పండి.

IV. ప్రాతినిధ్య పరచడం (5 మార్కులు)

1 వ తరగతి గణితంలోని 44 పేజిలోని చొమ్మి చూపి, ప్రశ్నలను అడగండి.